

# 教 養 問 題

令和 4 年施行 職員採用試験

指示があるまで開いてはいけません。

## 注 意

1. 問題と解答用紙は別になっています。必ず解答用紙に解答してください。
2. 問題は全部で**50題**あり、ページ数は**52ページ**です。  
[No. 1] ~ [No. 40] は必ず解答し、[No. 41] ~ [No. 50] は**10題**のうち**5題**を選択し、合計**45題**を解答してください。
3. 解答時間は**2時間30分**です。
4. 解答方法は次のとおりです。

例 [No. 1] 日本の首都として、正しいのはどれか。

1. 京都 2. 福岡 3. 東京 4. 大阪 5. 広島

正答は「3. 東京」ですから解答用紙の問題番号の次に並んでいるマーク欄 ① ② ③ ④ ⑤ の中の ③ を鉛筆又はシャープペンシルで ● のようにマークして ① ② ● ④ ⑤ とすれば正解になります。

5. 各問題とも正答は**一つ**だけです。二つ以上マークした場合は誤りとなります。
6. 解答に当たっては、解答用紙に記載された**記入上の注意**をよく読んでください。
7. 計算を要する場合は、この冊子の余白を利用してください。**解答用紙は絶対に使ってはいけません。**
8. この冊子は持ち帰ることができますが、**解答用紙は絶対に持ち帰らないでください。**

[No. 1] 次の文章で述べられていることとして、最も妥当なのはどれか。

※ この部分は、著作権の関係により、掲載できません。

※ この部分は、著作権の関係により、掲載できません。

(前田英樹「独学の精神」による)

1. パスカルは、無限大と無限小の宇宙をただ黙って眺めることが一本の葦としての人間の態度であると主張し、科学を否定した。
2. 人間は一本の葦のように弱く小さな存在だが、考えることで我が身の置かれた状況を超えることができ、宇宙の無限について正確に理解する道が開ける。
3. 「道德の原理」は究極的には科学よりも優位にあり、すべての科学者は、宇宙を創造した神への信仰に辿り着くほかはない。
4. 『パンセ』を読むと、パスカルは、無限大と無限小をひとつのものとして創った神が、無限なる創造そのものに一致してしまうと考えたということがわかる。
5. 葦のように考えるとは、我が身が葦のように弱いものならそのまま葦のように考え続けよということであり、ここにパスカルが言う「道德の原理」がある。

[No. 2] 次の文章で述べられていることとして、最も妥当なのはどれか。

※ この部分は、著作権の関係により、掲載できません。

※ この部分は、著作権の関係により、掲載できません。

(片岡義男「日本語で生きるとは」による)

1. 日本人が対話や議論が下手なことに関して、そもそも対話や議論に向いていないという的外れな説があるが、その点から遡って考えてみる価値は確かにある。
2. 日本人が対話や議論に向いていないのは、対話や議論がいったいなになのかを知らないからではなく、そのことに日本人は興味がないからである。
3. 対話や議論をめぐる日本人について考えてみると、日本人は自らの主観から離れては現実をとらえていないのではないかという考えに行き着く。
4. 日本人にとって現実のぜんたいが見えていないままとなるのは、日本人は現実の厳しさや残酷さを直視することに耐えられず、目を背けてしまうからである。
5. 日本人は自分の目の前にあって見えやすい一部分をひとつの角度からしか見ないため、時間がいくら経過しても、議論が終わることはない。

[No. 3] 次の文を並べ替えて一つのまとまった文章にする場合、最も妥当なのはどれか。

※ この部分は、著作権の関係により、掲載できません。

(加藤周一「羊の歌」による)

1. C - E - G - B - F - D - A
2. C - G - E - D - B - A - F
3. E - B - D - C - G - F - A
4. E - C - G - B - D - A - F
5. E - G - F - C - B - D - A

[No. 4] 次の文章の空欄に当てはまる語句の組合せとして、最も妥当なのはどれか。

※ この部分は、著作権の関係により、掲載できません。

(齋藤孝「教育力」による)

	A	B	C	D
1. 試験	伝達力	教育	簡単な	
2. 試験	理解力	研究	分かりやすい	
3. 問題	伝達力	研究	幅広い	
4. 問題	理解力	研究	明確な	
5. 問題	理解力	教育	奥深い	



(このページは余白です。)

[No. 5] 次の英文の中で述べられていることと一致するものとして、最も妥当なのはどれか。

※ この部分は、著作権の関係により、掲載できません。

(Dave Pelzer 「A Child Called 'It」 による)

\* pitiful……哀れな      \* carefree……心配のない

1. 私は虐待を受けて育ったが、人生の「勝者」になるために常に努力してきたので、自分のことを孤独であわれな「敗者」だと感じたことは一度もない。
2. 児童虐待の罪は、私のように、自分の子供を愛することができない父親を生み出し、憎しみの連鎖を形成してしまう点にある。
3. 過去にどんな嘘をついてきたとしても、その嘘と向き合い、明るい世界へ突き進んでいくことが大切だと、私は信じている。
4. 経済と社会の変化が家族を極限まで追いつめ、児童虐待の起こりやすい社会状況が作られてしまった。
5. 社会が児童虐待に真正面から取り組むならば、まずは児童への支援方法を確立させることが重要であり、それによって児童虐待の原因が理解されるようになる。

[No. 6] 次の英文の中で述べられていることと一致するものとして、最も妥当なのはどれか。

※ この部分は、著作権の関係により、掲載できません。

(Rachel Carson 「SILENT SPRING」による)

- \* abundance……多数
- \* sterile……不毛の
- \* myriad……無数の
- \* mantle……表面を覆うもの
- \* nitrogen……窒素
- \* vastly……<sup>はる</sup>遙かに
- \* teem……富む

1. 土壤に多数の有害な生物が住みついていると、土壤は不毛となり死に果ててしまうこともある。
2. 土壤は始まりも終わりもない循環の過程に組み込まれることなく、独自に変化し続けている。
3. 新しい物質が出てきて絶えず岩石を崩壊させている一方で、一時だけ生物に利用されては、消滅していく物質もある。
4. 真っ暗な土壤の中にいる無数の生物に関する研究はとても魅力的なので、多くの科学者の研究対象になっている。
5. 多くの科学者による研究の結果、土壤の変化が地表の世界に及ぼす影響についてはよく知られるようになったが、土壤の中の世界については未解明な点が多い。

[No. 7] 次の英文の中で述べられていることと一致するものとして、最も妥当なのはどれか。

※ この部分は、著作権の関係により、掲載できません。

(Anne Morrow Lindbergh 「GIFT from the SEA」による)

\* disparity……不均衡      \* atrociously……酷く      \* monk……修道者  
\* serenity……静穏      \* vanity……虚栄心

1. 私は今、アメリカ北部と同様に厳しい冬を過ごしているが、冬の生活になくなくてはならない物が手に入らないので不自由である。
2. ドイツの収容所にいたことがある友人は、収容所では、食べ物はほとんどなく、行動も制限され、精神上の自由と平和を得ることは一度もなかったと話していた。
3. 私たちアメリカ人の大部分は、簡易な生活を選択することができるにもかかわらず、複雑な生活を選択する。
4. 戦争や収容所などでの生活を経験すると、人間は自然と、修道僧たちのような簡易な生活を選択するようになる。
5. 人間は、様々なものを手に入れることで美しさを追究しているので、簡易な生活や貝殻同然の私の家は、美しいとは言えない。

[No. 8] 次の英文の中で述べられていることと一致するものとして、最も妥当なのはどれか。

※ この部分は、著作権の関係により、掲載できません。

(Rosemary Border 「Recycling」による)



1. リサイクルは、環境汚染を防ぐための有効な手段であり、エネルギーや資源、お金を節約することよりもはるかに重要である。
2. 再利用は、リサイクルのなかでも、多くのエネルギーや資源、お金を必要とする方法の一つである。
3. 30年前まで、牛乳を入れるガラス瓶は使い捨てにされていたが、近年になって空き瓶を店に返却すればその分お金を返してもらえる仕組みに変わったため、ガラス瓶が何度も再利用されるようになった。
4. 多くの一般市民はリサイクルに協力的で、自ら進んでガラスを分別して捨てているものの、収集運搬の過程に課題があり、産業界でのガラスのリサイクル率は低い状態が続いている。
5. ガラス1トンのリサイクルすることで、石油を135リットルも節約することができることから、ガラスのリサイクルは資源の節約になると同時にエネルギーの節約になる。

[No. 9] ある大学の学生85人を対象に、ゆで卵、目玉焼き、スクランブルエッグのうち、好きな卵の調理方法を問う複数回答可能なアンケートを実施したところ、次のことが分かった。

- A ゆで卵が好き…60人
- B 目玉焼きが好き…40人
- C スクランブルエッグが好き…35人
- D ゆで卵とスクランブルエッグが好き…15人
- E 目玉焼きとスクランブルエッグが好き…15人
- F ゆで卵と目玉焼きが好き…32人
- G ゆで卵、目玉焼き、スクランブルエッグいずれもが好き…10人

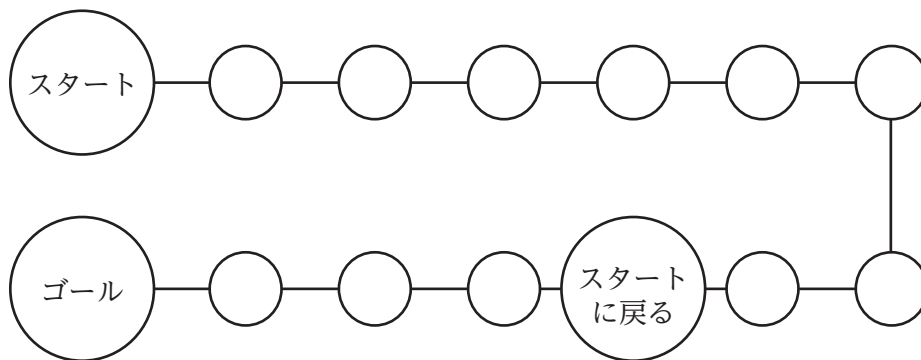
以上から判断して、ゆで卵、目玉焼き、スクランブルエッグのいずれも選択しなかった人は何人か。ただし、85人全員が回答したものとする。

- 1. 0人
- 2. 1人
- 3. 2人
- 4. 3人
- 5. 4人

[No. 10] ある暗号で「H j I j B b G k G j」が「ユリカモメ」を表すとき、同じ暗号の法則で「サクラトラム」を表すものとして、妥当なのはどれか。

1. C a B c I a D e I a G c
2. C c B d I i D h I i G i
3. C e B a I c D h I c G a
4. C h B e I i D c I i G a
5. C i B h I c D i I c G h

[No. 11] 下の図のようなすごろくにおいて、「スタート」の位置から、1から6の目が一つずつ書かれた立方体のサイコロ一つを振って出た目の数だけコマを進ませ、サイコロを三回振ったときにちょうど「ゴール」の位置に止まる確率として、正しいのはどれか。ただし、「スタートに戻る」の位置に止まったときは、「スタート」の位置に戻るものとする。



1.  $\frac{17}{216}$
2.  $\frac{1}{12}$
3.  $\frac{5}{54}$
4.  $\frac{7}{72}$
5.  $\frac{5}{36}$

[No. 12] 年齢が1歳ずつ異なるA～Fの6人の兄弟が、次のように発言した。これらのうち六男の発言は真実ではなく、それ以外の者の発言は真実であるとき、6人の年齢について確実にいえるのはどれか。

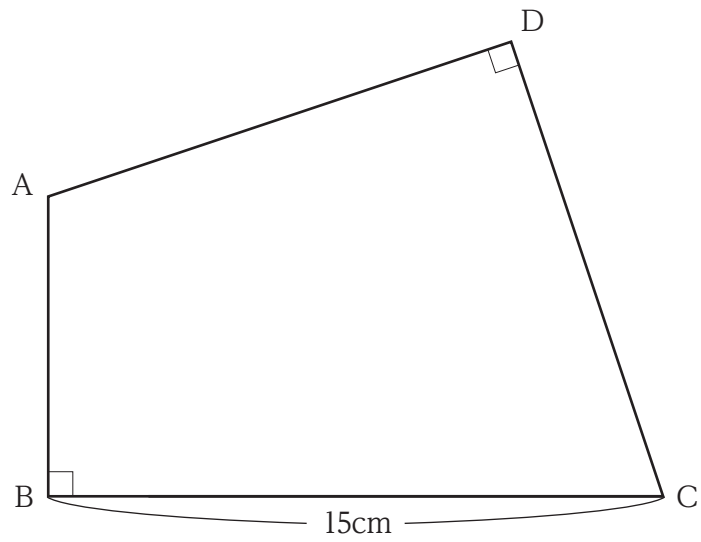
- A 「私は、四男である」
- B 「私とEの間にF及びDがいる」
- C 「Eは、F及びDより年上である」
- D 「私とEのいずれも三男ではない」
- E 「私は、Cより年下である」
- F 「長男は、Cである」

- 1. AとFの間にBがいる。
- 2. AはDより年上である。
- 3. BとCの年齢は3歳以上離れていない。
- 4. C、D、Eの順序は連続している。
- 5. Fが五男である。

[No. 13] 3桁の自然数のうち、7で割ると3余り、かつ9で割ると5余るという条件を満足する全ての自然数の和として、正しいのはどれか。

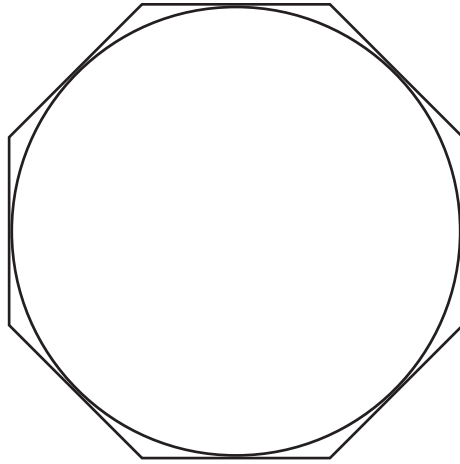
- 1. 6,909
- 2. 7,042
- 3. 7,175
- 4. 7,308
- 5. 7,441

[No. 14] 下の図のように、四角形  $ABCD$  が、 $CD=DA$ 、 $BC=15\text{cm}$ 、 $\angle ABC = \angle CDA = 90^\circ$  であり、四角形  $ABCD$  の面積が  $121\text{cm}^2$  であるとき、線分  $AB$  の長さとして、正しいのはどれか。



1.  $\sqrt{17}$  cm
2. 6 cm
3. 7 cm
4. 8 cm
5.  $5\sqrt{3}$  cm

[No. 15] 下の図のような正八角形の面積が  $4 + 4\sqrt{2}$  のとき、内接する円の面積として正しいのはどれか。ただし、円周率は  $\pi$  とする。



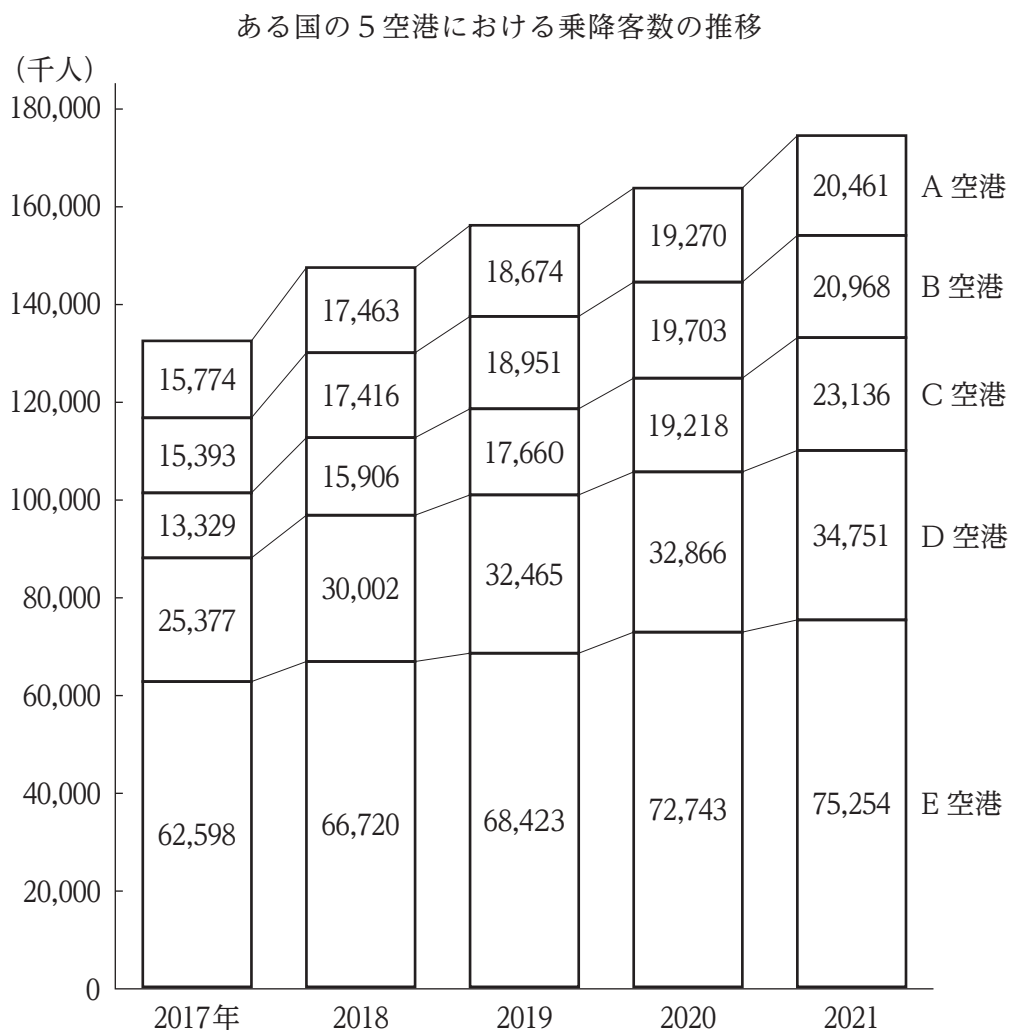
1.  $\frac{1 + 2\sqrt{2}}{2} \pi$
2.  $(1 + \sqrt{2}) \pi$
3.  $\frac{4 + \sqrt{2}}{2} \pi$
4.  $\frac{3 + 2\sqrt{2}}{2} \pi$
5.  $\frac{5 + 5\sqrt{2}}{4} \pi$

[No. 16] 金融機関 A に200万円を年利率1.0%（複利）で10年間預ける予定だったが、預け入れ後ちょうど4年経過した時点で引き出し、引き出した金額全てを同じ日に金融機関 B に、ある年利率（複利）で預け、3年後に全額引き出したところ、その金額は金融機関 A に10年間預ければ受け取ったであろう金額よりも多くなった。次のうち、金融機関 B の年利率としてあり得るもので、最も低いものはどれか。ただし、利子にかかる税金は無視できるものとする。

1. 1.7%
2. 1.9%
3. 2.1%
4. 2.3%
5. 2.5%

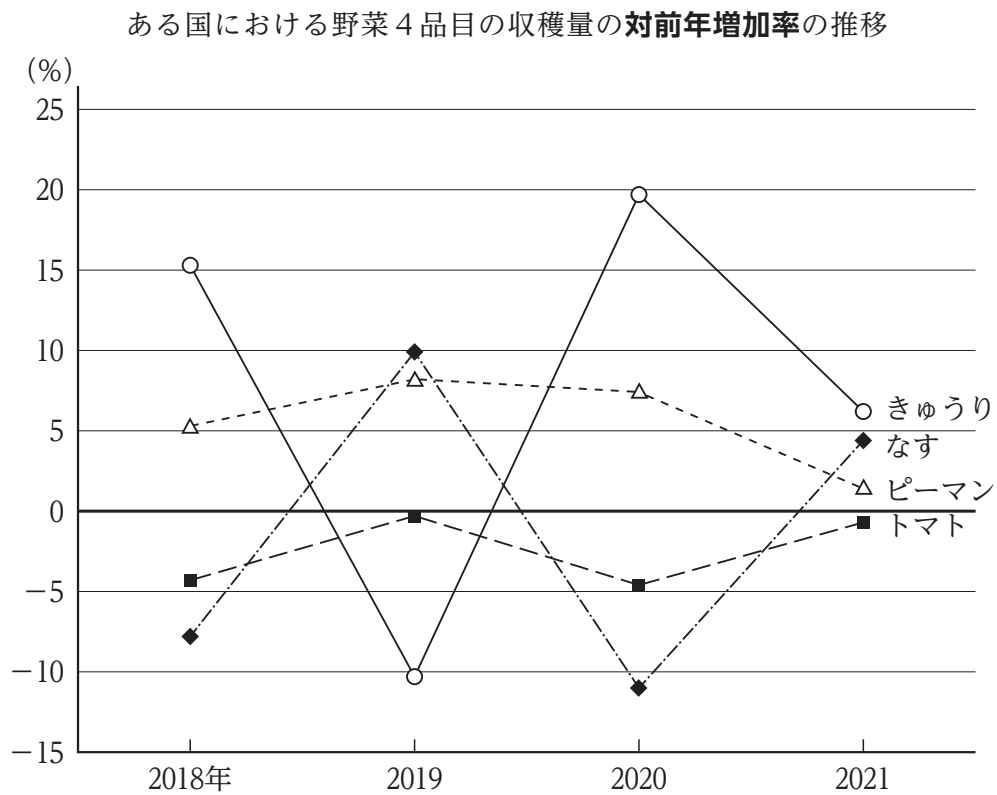


[No. 17] 次の図から正しくいえるのはどれか。



1. 2017年から2019年までの各年についてみると、5空港の乗降客数の合計に占めるC空港の乗降客数の割合は、いずれの年も15%を上回っている。
2. 2017年におけるE空港の乗降客数を100としたとき、2021年におけるE空港の乗降客数の指数は125を下回っている。
3. 2018年から2020年までの各年についてみると、D空港の乗降客数に対するA空港の乗降客数の比率は、いずれの年も0.6を上回っている。
4. 2019年から2021年までの3か年におけるB空港の乗降客数の年平均は、19,500千人を下回っている。
5. 2021年についてみると、乗降客数の対前年増加率が最も大きいのはC空港であり、次に大きいのはE空港である。

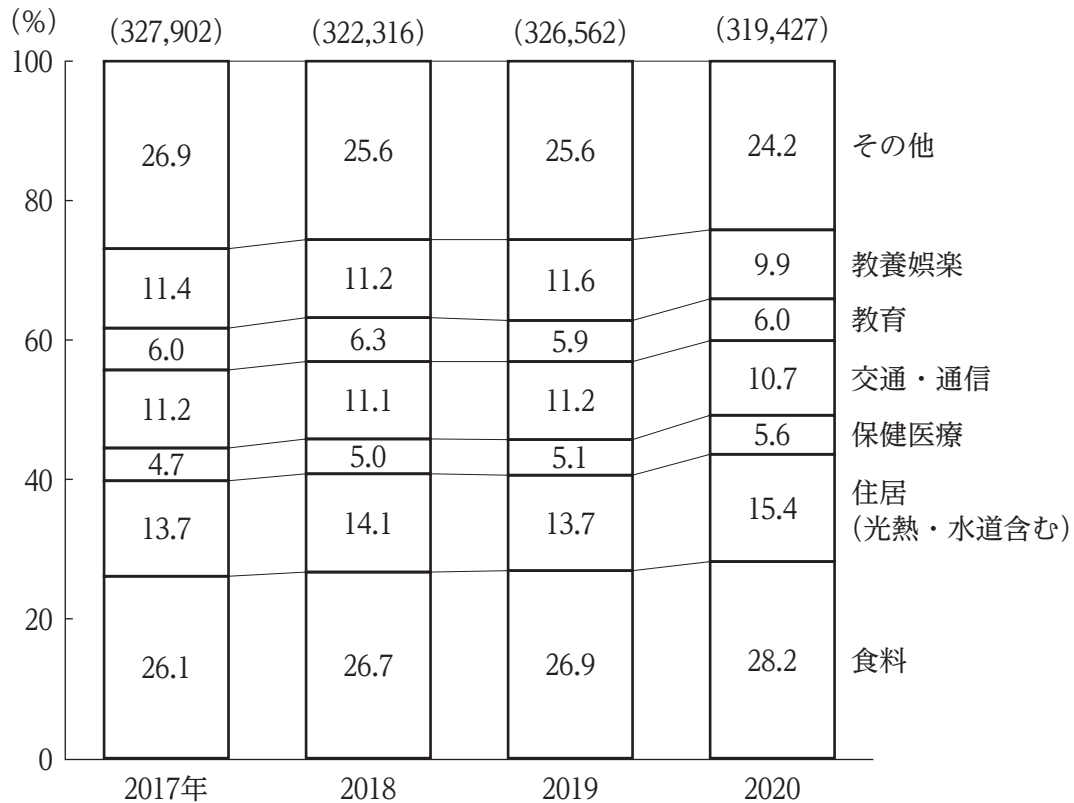
[No. 18] 次の図から正しくいえるのはどれか。



1. 2017年から2019年までのうち、きゅうりの収穫量が最も多いのは2018年であり、最も少ないのは2019年である。
2. 2018年におけるピーマンの収穫量を100としたとき、2020年におけるピーマンの収穫量の指数は120を上回っている。
3. 2019年から2021年の各年についてみると、トマトの収穫量に対するなすの収穫量の比率は、いずれの年も前年に比べて増加している。
4. 2020年におけるきゅうりの収穫量は、2018年におけるきゅうりの収穫量に比べて減少している。
5. 2021年における収穫量を野菜別にみると、収穫量が2017年に比べて減少しているのは、なすとトマトである。

[No. 19] 次の図から正しくいえるのはどれか。

都民1世帯あたりの1か月の消費支出における費目別支出金額の構成比の推移



(注) ( ) 内の数値は、費目別支出金額の合計 (単位: 円)

- 2017年から2019年までの各年についてみると、教養娯楽の支出金額は、教育の支出金額をいずれの年も20,000円以上、上回っている。
- 2017年から2020年までのうち、保健医療の支出金額が最も多いのは2020年であり、最も少ないのは2017年である。
- 2017年における食料の支出金額を100としたとき、2020年における食料の支出金額の指数は、110を上回っている。
- 2018年から2020年までの3か年における教養娯楽の支出金額の平均は、34,000円を下回っている。
- 2019年の交通・通信と住居 (光熱・水道含む) の支出金額の合計は、2020年の交通・通信と住居 (光熱・水道含む) の支出金額の合計を上回っている。

[No. 20] 次の図表から正しくいえるのはどれか。

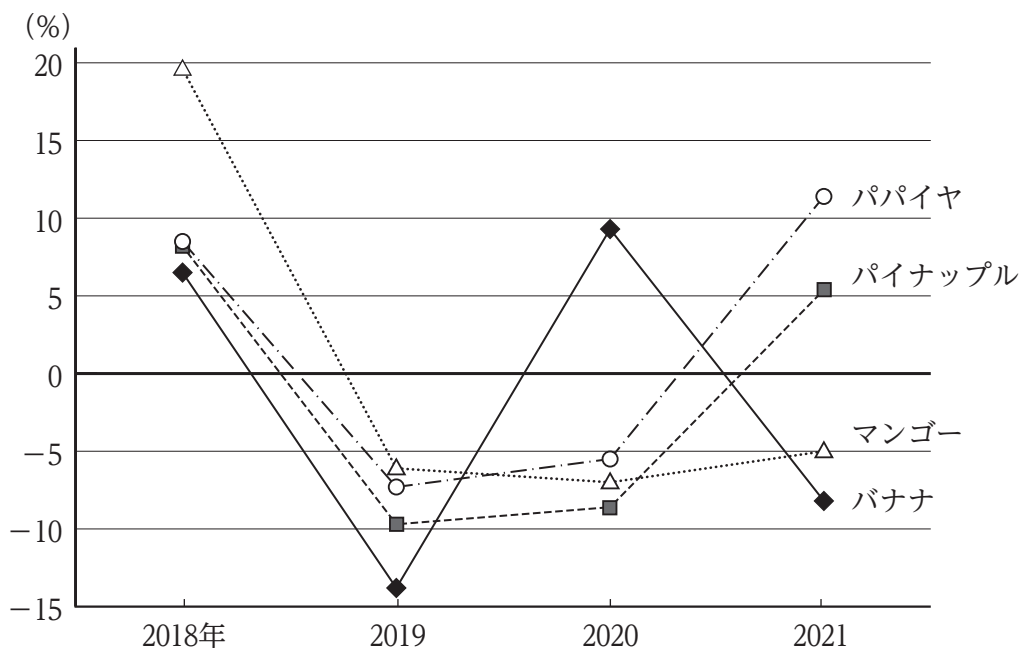
ある国における4種類の果物の卸売数量の状況

果物別卸売数量 (2017年)

(単位：t)

果物名	バナナ	パイナップル	パパイヤ	マンゴー
卸売数量	61,451	54,962	17,015	15,053

果物別卸売数量の対前年増加率の推移



- 2017年におけるパイナップルの卸売数量を100としたとき、2019年におけるパイナップルの卸売数量の指数は、90を下回っている。
- 2018年におけるバナナの卸売数量とマンゴーの卸売数量との差は、46,000 t を下回っている。
- 2018年から2020年までのうち、パパイヤの卸売数量が最も多いのは2018年であり、最も少ないのは2019年である。
- 2019年から2021年までの3か年についてみると、マンゴーの1年当たりの平均の卸売数量は、15,000 t を上回っている。
- 2020年におけるバナナの卸売数量は、2018年におけるバナナの卸売数量に比べて増加している。

[No. 21] 図 I のような展開図から作った立方体を、図 II のように 6 が正しく見えるように 6 の面を上面にして置き、次の操作を順番に行った。

ア A の方向へ 1 回倒す。

イ B の方向へ 2 回倒す。

ウ C の方向へ 2 回倒す。

エ D の方向へ 1 回倒す。

このとき、上面の数字として正しいのはどれか。

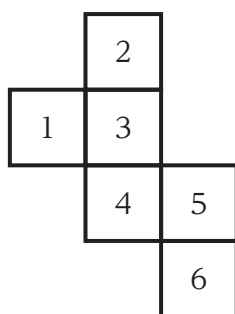


図 I

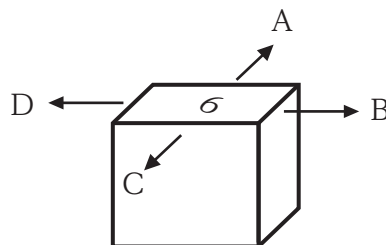



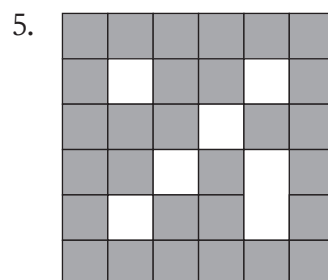
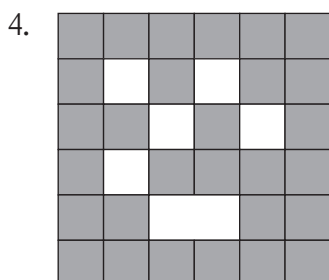
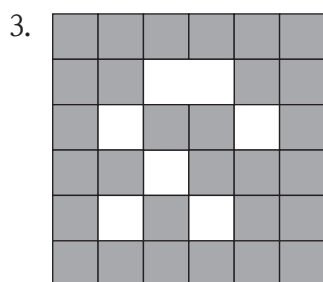

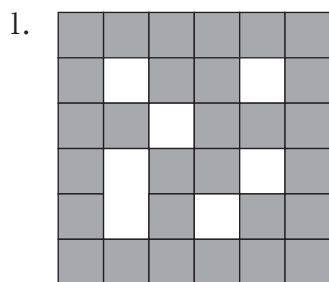
図 II

1. 1
2. 2
3. 3
4. 4
5. 5

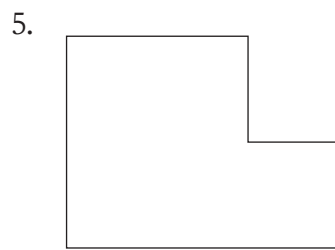
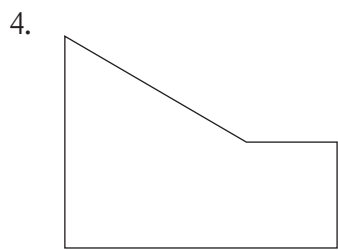
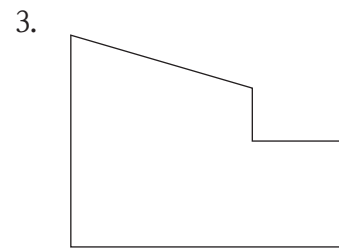
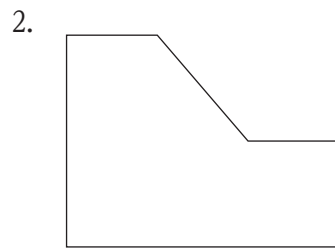
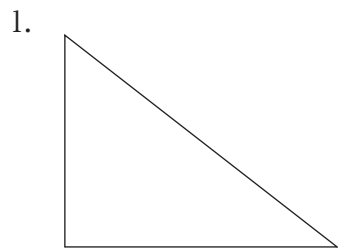
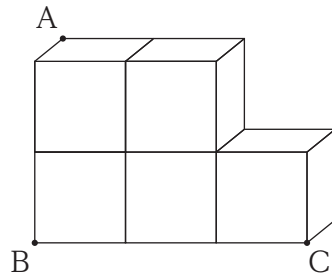
[No. 22] 下の図のように、着色された方眼紙の一部を切り抜いた紙片 A がある。紙片 A に、紙片 A と同じ大きさの、着色された方眼紙の一部を切り抜いた紙片を、全ての角を一致させて重ね合わせ、上から見たとき、方眼紙が全て着色されて見える紙片として、妥当なのはどれか。ただし、全ての紙片は回転させることができるが、裏返すことはできない。



紙片A



[No. 23] 下の図のような、同じ大きさの立方体5個を組み合わせた立体を、頂点A、B、Cの3点を通る平面で切断したとき、切断面の図形として、妥当なのはどれか。



[No. 24] 下の図のように、長辺 $\sqrt{3}a$ 、短辺 $a$ の長方形が、直線と接しながら、かつ、直線に接している部分が滑ることなく矢印の方向に1回転するとき、長方形の頂点Pが描く軌跡の長さとして、正しいのはどれか。ただし、円周率は $\pi$ とする。



1.  $\frac{3+\sqrt{3}}{2}\pi a$
2.  $(1+\sqrt{3})\pi a$
3.  $3\pi a$
4.  $\frac{3+2\sqrt{3}}{2}\pi a$
5.  $(2+\sqrt{3})\pi a$



[No. 25] 日本の作家に関する記述として、妥当なのはどれか。

1. 武者小路実篤は、新興芸術派の作家の一人であり、彼の代表的な作品には、「その妹」や「黒い雨」がある。
2. 谷崎潤一郎は、耽美派たんの作家の一人であり、彼の代表的な作品には、「細雪」や「痴人の愛」がある。
3. 芥川龍之介は、白樺派の作家の一人であり、彼の代表的な作品には、「檸檬れもん」や「冬の日」がある。
4. 志賀直哉は、新思潮派の作家の一人であり、彼の代表的な作品には、「斜陽」や「暗夜行路」がある。
5. 川端康成は、新感覚派の作家の一人であり、彼の代表的な作品には、「父帰る」や「それから」がある。

[No. 26] 第二次世界大戦後に、連合軍最高司令官総司令部（GHQ）から発せられた五大改革指令に含まれるもののみの組合せとして、妥当なのはどれか。

- A 報道の自由化
- B 労働組合の結成奨励
- C 教育制度の自由主義的改革
- D 政党の復活
- E 警察予備隊の新設

- 1. A、C
- 2. A、E
- 3. B、C
- 4. B、D
- 5. D、E

[No. 27] ブラジルに関する記述として、妥当なのはどれか。

- 1. ブラジルは、日本の約4倍の国土面積を持ち、人口は2億人を超え、かつて社会問題となった経済格差は解消された。
- 2. ブラジルは、20世紀初頭にスペインから独立した後、ヨーロッパやアジアからの移民を受け入れており、人種構成が多様である。
- 3. ブラジルでは、1960年に首都がブラジリアからリオデジャネイロに移転され、リオデジャネイロ沖では石油が掘削されている。
- 4. ブラジルでは、南東部のイタビラ鉄山に加え、北部のカラジャス鉄山が開発され、世界的な鉄鉱石産出国となっている。
- 5. ブラジルでは、2013年以降、実質GDP成長率は毎年7%を超え、高度成長が続いている。

[No. 28] 次のA～Eのうち、音に関する記述として、妥当なものの組合せはどれか。

- A 音波は、空気の密度の疎密の変化が伝わっていく横波である。
- B 音波は、液体では伝わるが、固体では伝わらない。
- C 音波には、反射、屈折、回折の現象がみられる。
- D 気温が上昇すると、音波の伝わる速さは小さくなる。
- E 音源が動くと、静止している人に聞こえる音の振動数が変わる。

- 1. A、B
- 2. A、C
- 3. B、D
- 4. C、E
- 5. D、E

[No. 29] 次の炎色反応における元素と炎の色の組合せとして、妥当なのはどれか。

	元素	炎の色
1.	リチウム	青緑
2.	ナトリウム	黄
3.	カリウム	青
4.	カルシウム	黄緑
5.	銅	赤紫

[No. 30] ヒトの神経に関する次の文章の空欄 A～C に当てはまる語句の組合せとして、妥当なのはどれか。

ヒトの感覚器官が受け取った刺激は、神経を伝わって脳や脊髄せきずいに送られる。感覚器官からの情報を脳や脊髄に伝える神経を [A] 神経という。脳や脊髄では、[A] 神経から伝わった信号に対してどのように反応するかが判断され、その命令が信号となって [B] 神経を通じて筋肉に伝えられ、刺激に対する反応が起こる。 [A] 神経と [B] 神経は、 [C] 神経系とよばれる。

- |    | A  | B  | C                       |
|----|----|----|-------------------------|
| 1. | 感覚 | 運動 | 末梢 <small>まっしょう</small> |
| 2. | 感覚 | 運動 | 中枢                      |
| 3. | 感覚 | 自律 | 中枢                      |
| 4. | 反射 | 自律 | 中枢                      |
| 5. | 反射 | 運動 | 末梢                      |

[No. 31] 本年5月に農林水産省が公表した「令和3年度 食料・農業・農村白書」に関する記述として、妥当なのはどれか。

1. 外食産業全体の売上高は、緊急事態宣言が解除された直後の2021年10月以降も減少傾向を示したが、2022年1月のまん延防止等重点措置に従い各店舗が予防措置を徹底して営業した結果、新型コロナウイルス感染症拡大前の水準まで回復した。
2. 農業経営体1経営体当たりの経営耕地面積は、耕作を目的に他人から借り入れている耕地の面積が減少したこともあり、2005年以降、縮小傾向を示している。
3. 2020年度の日本の供給熱量ベースの総合食料自給率は、米の消費が減少したこと等により、1993年度や2018年度と並び、過去最も低い37%となった。
4. 日本の主要農産物の輸入構造は、少数の特定の国への依存傾向が顕著であり、2021年の小麦の輸入は、米国、中国、ロシアの3か国に99.8%を依存している状況である。
5. データを活用した農業を実施している農業経営体は全体の約6割に上っており、なかでも、15~39歳の個人経営体や法人経営体においては、約8割が農業経営にデータ分析を取り入れている。

[No. 32] 本年6月に閣議決定された「経済財政運営と改革の基本方針2022」に関する記述として、妥当なのはどれか。

1. 重点的投資分野として、「グリーン社会の実現」、「子供を産み育てやすい社会の実現」、「活力ある地方創り」の3つを挙げ、改革を推進するとした。
2. NISAの抜本的拡充及びiDeCo制度の改革等の政策を総動員して、本年末に総合的な「資産所得倍増プラン」を策定するとした。
3. スタートアップ（新規創業）への投資として、5年20倍増を視野に「スタートアップ育成5か年計画」を本年度末に策定するとした。
4. 新たな国家安全保障戦略等を加速し、防衛力を10年以内に抜本的に強化するため、防衛費についての令和5年度予算規模は対GDP比1%を基準とした。
5. 新しい資本主義の実現に向け、計画的で大胆な重点投資については、官民連携ではなく、民間企業による事業の下で推進するとした。

[No. 33] 本年3月に国土交通省が発表した「令和4年地価公示」に関する記述として、妥当なのはどれか。

1. 地価公示とは、国土交通省国土審議会が、路線（道路）に面する土地の価格を判定するものであり、一般の土地の取引価格に対する指標とされている。
2. 全国平均では、全用途平均及び住宅地が2年ぶりに上昇に転じたが、商業地は横ばいとなった。
3. 地方四市（札幌・仙台・広島・福岡）のうち仙台を除く地域において、住宅地が上昇を継続し、上昇幅も前年を上回った。
4. インターネット通販の大型物流施設用地の需要が強く、高速道路のインターチェンジ周辺等の工業地では、地価の上昇率が前年よりも拡大した。
5. より広い居住空間を求める需要者のニーズとインフラ整備の効果を受けて、住宅地の地価上昇率が最大となったのは沖縄県那覇市であった。

[No. 34] 本年4月に施行された「少年法等の一部を改正する法律」に関する記述として、妥当なのはどれか。

1. 少年の事件は、全件が家庭裁判所に送られていたが、一部は地方自治体の所管する保護観察所に送られることが追加された。
2. 民法改正により成年年齢が引き下げられたが、18歳及び19歳については「特定少年」として引き続き少年法が適用される。
3. 家庭裁判所は、少年が死刑に当たる罪を犯した場合に限り、検察官送致を決定できるとされた。
4. 少年の事件において検察官送致が決定された場合は、対象事件の重大性を踏まえ、少年の年齢により異なる取扱いをしないこととされた。
5. 少年の事件においては実名や写真等の報道が禁止されていたが、起訴された少年は全て、これらの情報が報道されることとなった。

[No. 35] 国際事情に関する記述として、妥当なのはどれか。

1. 本年4月、日米首脳会談の終了後に行われた共同記者会見において、米国のバイデン大統領は、台湾問題に関し、いわゆる「あいまい戦略」を引続き踏襲すると明言した。
2. 本年5月に開催された日米豪印首脳会合では、現状を変更し、地域の緊張を高めようとするあらゆる威圧的、挑発的又は一方的な行動に強く反対することなどを明記した共同声明が発表された。
3. 本年6月に開催されたG7エルマウ・サミットでは、ロシアに対し、経済制裁の解除と引き換えに、クリミア半島を除くウクライナからの全軍隊の撤退を要求することなどを明記した首脳声明が発表された。
4. 本年7月に開催されたG20財務大臣・中央銀行総裁会議では、世界的なインフレや食料不安などの課題に連携して対処していくとした共同声明が発表された。
5. 本年8月、ミャンマー国軍は、ASEAN議長国による刑の執行中止の要請等を考慮し、国民民主連盟の元議員など民主派4名に対する刑の執行延期を発表した。



[No. 36] 本年3月に厚生労働省が実施した「更年期症状・障害に関する意識調査」に関する記述として、妥当なのはどれか。

1. 本調査において、更年期症状とは、「ほてり」や「のぼせ」などの更年期に現れる症状の中で、他の疾患に起因するものと定義している。
2. 「医療機関への受診により、更年期障害と診断されたことがある／診断されている」と回答した人の割合は、50歳代では男性と女性で差がなかった。
3. 「更年期障害の可能性があると考えている」と回答した人の割合は、男女とも50歳代が最も高かったが、女性で約3割であり、男性は1割に満たなかった。
4. 更年期症状が一つでもある回答者を対象に、更年期症状を自覚し始めてから医療機関を受診するまでの期間について尋ねたところ、「受診していない」と回答した人の割合は、40歳代・50歳代では男女とも約8～9割を占めていた。
5. 「男性にも更年期にまつわる不調があること」について、「知っている」と回答した人の割合は、40歳代以降の男性で約3～5割、40歳代以降の女性で約1～2割であった。

[No. 37] 都政に関する記述として、妥当なのはどれか。

1. 令和4年度一般会計の歳出総額は、危機管理体制の強化や「サステナブル・リカバリー」の実現など積極的な施策展開を図った結果、過去最大であった令和元年度に迫る規模となった。
2. 都は、本年2月、都政のQOS(クオリティ・オブ・サービス)向上に向けた取組を「超速」で進めるため、昨年策定した「シン・トセイ」の内容を一新した「都政の構造改革QOSアップグレード戦略」を策定した。
3. 都は、本年4月、地域医療を強みとしてきた都立病院と高度・専門的医療を担ってきた公社病院を一体として地方独立行政法人化し、地方独立行政法人東京都立病院機構を設立した。
4. 都は、『『未来の東京』戦略』について、12の切り口で政策をバージョンアップしていくとしており、その一つに、持続可能な都市の実現に向け、大手町・丸の内・有楽町地区で実施される「先行プロジェクト」が挙げられている。
5. 都は、今夏の電力ひっ迫への備えに加え、気候変動対策や中長期的なエネルギーの安定確保の観点から、電力を「減らす・創る・蓄める」の頭文字をとったH T Tをキーワードとする都民・事業者と共に進める電力確保に向けた取組を開始した。

[No. 38] 憲法に定める国会における衆議院の優越に関する記述として、妥当なのはどれか。

1. 法律案について、参議院が、衆議院の可決した法律案を受け取った後、国会休会中の期間を除いて30日以内に議決しないときは、衆議院は、参議院がその法律案を可決したものとみなすことができる。
2. 予算について、参議院で衆議院と異なった議決をした場合に、衆議院で出席議員の3分の2以上の多数で可決したときは、衆議院の議決を国会の議決とする。
3. 条約の締結に必要な国会の承認について、参議院で衆議院と異なった議決をした場合に、法律の定めるところにより、両議院の協議会を開いても意見が一致しないときは、衆議院の議決を国会の議決とする。
4. 内閣総理大臣は、衆議院議員の中から国会の議決でこれを任命するが、この任命は、他の全ての案件に先立って行わなければならない。
5. 衆議院で内閣不信任の決議案を可決したときは、内閣は衆議院を解散しなければならないが、また、衆議院で内閣信任の決議案を否決したときは、内閣は総辞職しなければならない。

[No. 39] 日本の裁判員制度に関する記述として、妥当なのはどれか。

1. 裁判員は、高等裁判所又は地方裁判所で行われる刑事裁判のうち、法定刑が死刑又は無期の懲役に当たる罪に係る事件以外の事件に関する裁判に限り参加する。
2. 裁判員の参加する合議体では、裁判官の員数は2人とされ、裁判員の員数は5人とされている。
3. 裁判員は、日本国内に住居を有する者の中から抽選で選ばれることとされ、日本国籍を有する必要はない。
4. 有罪・無罪の決定及び量刑の判断については、合議体の員数の過半数の意見で決するものとされ、有罪の決定も、裁判員のみ意見により下される場合がある。
5. 裁判員は、守秘義務を負い、これに反した場合、刑事罰として懲役刑や罰金刑が科されることがある。

[No. 40] 日本の会社に関する記述として、妥当なのはどれか。

1. 現在設立可能な会社の種類は、株式会社、合名会社、合資会社の3つであり、全ての出資者が有限責任である会社は合資会社と株式会社である。
2. 有限責任とは、会社が負債を抱えて倒産したとき、出資者としての権利を失った上、自分の個人的財産をもって負債を弁償する義務があることをいう。
3. 株式会社の出資者は有限責任の株主であり、会社の上げた利益の一部は、全ての株主に均等に分配される。
4. 株式会社における「所有と経営の分離」とは、株主総会において、株主によって選出された専門の経営者が、会社の経営を行うことをいう。
5. 株式会社の設立には、取締役を5人以上置くことや、1,000万円を最低資本金としなければならないなどの要件がある。

受験者は、これよりあとの〔No. 41〕～〔No. 50〕の10題のうち、5題を選択して解答すること。

なお、6題以上解答した場合は、問題番号順に数えて、6題目以降は採点されません。

[No. 41] 憲法に定める裁判を受ける権利に関する記述として、妥当なのはどれか。

1. 裁判を受ける権利という「裁判」は、民事事件及び刑事事件についての裁判に限られ、行政事件についての裁判を含まない。
2. 行政機関が裁判を行うことは、たとえ前審であったとしても、裁判所において裁判を受ける権利を侵害し、許されない。
3. 基本的人権を自由権、平等権、参政権、社会権及び受益権に分類した場合、裁判を受ける権利は社会権に分類される。
4. 最高裁判所は、管轄違いの裁判について、裁判所の組織・管轄が変更されたにもかかわらず、誤って変更前の管轄で裁判した場合、裁判を受ける権利を侵害し、違憲であると判示した。
5. 最高裁判所は、実体的権利義務の存否を確定する「純然たる訴訟事件」と、既存の債務関係における利息を形成的に変更する等の「性質上非訟事件」を区別し、前者の裁判を非公開で行うのは、裁判を受ける権利の保障に違反すると判示した。

[No. 42] 民法に定める詐害行為取消権に関する記述として、妥当なのはどれか。

1. 最高裁判所は、債務者が特定物債権の目的物を処分することにより無資力となった場合においても、特定物債権が金銭債権でないという理由で、特定物債権者は当該処分行為を詐害行為として取り消すことができないと判示した。
2. 最高裁判所は、債務者が特定の債権者と通謀し、他の債務者を害することを知りながら自己の債権を代物弁済として譲渡した場合であっても、譲渡債権額が当該特定債権者に対する債務額を超えないときは詐害行為にならないと判示した。
3. 最高裁判所は、相続の放棄は、消極的に債権者の財産を減少させる行為で、財産権を目的とする法律行為であるということができ、詐害行為取消権の対象となると判示した。
4. 最高裁判所は、不動産物権の譲渡行為が債権者の債権成立前に行われた場合には、当該物権の登記が債権成立後に行われた場合であっても、当該債権者は当該譲渡行為に対して詐害行為取消権を行使できないと判示した。
5. 最高裁判所は、離婚に伴う財産分与が不相当に過大でない場合においても、一般債権者の共同担保を減少させることになるため、当該財産分与を詐害行為として取り消すことができると判示した。

[No. 43] 行政行為の効力に関する記述として、妥当なのはどれか。

1. 行政行為は拘束力を有していることから、行政行為の内容に応じて相手方及びその他の関係人を拘束するが、その効力は、当該行政行為を行った行政庁には及ばない。
2. 行政行為には公定力が認められており、当該行政行為に重大かつ明白な瑕疵がある場合でも、正当な権限を有する機関がそれを取り消すまでは、有効なものとして通用し、相手方及びその他の関係人を拘束する。
3. 行政行為には執行力が認められているが、行政行為によって命じられた義務が履行されない場合、行政庁が自ら義務の内容を実現するためには、裁判所の判決を得なければならない。
4. 行政行為の不可争力とは、たとえ当該行政行為に取り消しうべき瑕疵があったとしても、不服申立期間又は出訴期間が経過した後は、行政行為の相手方は当該行政行為の効力を争うことはできないことをいい、実質的確定力とよばれる。
5. 行政行為の不可変更力とは、紛争を解決するための裁断作用に認められ、正当な権限を有する機関が一旦判断を下した以上は、特別の規定がない限り自らその判断を覆しえないことをいう。



[No. 44] ある経済において、マクロ経済モデルが次式で示されているとき、輸出と輸入を均衡させるために必要な政府支出の増加額あるいは減少額として、正しいのはどれか。

$$Y = C + I + G + X - M$$

$$C = 0.8(Y - T) + 20$$

$$T = 0.25Y$$

$$M = 0.1Y + 10$$

$$I = 70$$

$$G = 60$$

$$X = 50$$

Y : 国民所得
C : 消費
I : 投資
G : 政府支出
X : 輸出
M : 輸入
T : 租税

1. 増加額 10
2. 減少額 10
3. 増加額 15
4. 増加額 20
5. 減少額 20

[No. 45] 地方交付税に関する記述として、妥当なのはどれか。

1. 地方交付税は、地方公共団体間の財政力格差を調整し、地方公共団体の財源を保障する機能をもっているが、国庫支出金と異なり用途が限定されている。
2. 地方交付税は、所得税、法人税、酒税、消費税及び自動車税の収入額の一定割合を財源としている。
3. 地方交付税のうち、普通交付税は、基準財政需要額が基準財政収入額を超える地方公共団体に対して、当該超過額に応じて交付される。
4. 地方交付税のうち、特別交付税は、地域における特別の財政需要に対して交付されるものであるが、普通交付税の算定後に生じた災害に対しては交付されない。
5. 地方交付税において、基準財政収入額は、地方公共団体の標準的な一般財源収入額とされ、単位費用に測定単位を乗じることにより算出される。

[No. 46] 会社法に定める株式会社の資本金及び剰余金に関する記述として、妥当なのはどれか。

1. 株式を発行して払込みを受けた場合、払込総額を資本金に計上することが原則であるが、払込総額の2分の1を超えない額を資本準備金に計上することができる。
2. 剰余金の額は、資産の額及び自己株式の帳簿価額の合計額から、負債の額を減ずることなく計上する。
3. 資本金の額は、あらかじめ定款で定めておくことにより、株主総会の決議によることなく減少させることができる。
4. 剰余金の配当は、株主総会の決議によらずに実施することが可能であり、また定款に定めがなくても取締役会の決議によって、期中に何度でも実施できる。
5. 剰余金の配当は、株主総会又は取締役会の決議により分配可能額を自由に決定することができる。

[No. 47] ウォーラス又はベントレーに関する記述として、妥当なのはどれか。

1. ウォーラスは、「政治における人間性」を著し、従来の人間観である主知主義を支持し、政治学に心理学的観点を導入することを主張した。
2. ウォーラスは、リップマンの影響を受け、各領域を代表する頂上団体が政府の政策決定や遂行過程に組み込まれるべきであるとした。
3. ベントレーは、「統治過程論」を著し、従来政治学は、死せる政治学であり政治制度の外面的な特徴についての形式的研究にすぎないとした。
4. ベントレーは、政治的現象が特定の名称により象徴されることを政治的実在と呼び、政治的実在が成立すると実質が変化しても名称が独り歩きすることを指摘した。
5. ベントレーは、一人の人間が利害を異にする複数の集団に帰属することを「集団のクリス・クロス」と呼び、政治過程の混乱や社会の崩壊の危機を招くものとして警告した。

[No. 48] サイモンの意思決定論に関する記述として、妥当なのはどれか。

1. 満足化原理に基づく意思決定とは、全ての代替案を列挙し、最も合理的な代替案を選ぶ意思決定の方法であるとした。
2. 意思決定前提を事実前提と価値前提に区分し、事実前提は所与のものとした上で、価値前提に基づく意思決定を分析の対象とした。
3. 現実的な意思決定を説明するためのモデルをごみ箱モデルとし、現実の意思決定過程は、諸要素が合理的に結びついて決定されるとした。
4. 人間には、上司からの命令を反問せずに受け入れる意思決定が存在するとし、これを無関心圏と呼び、経営人モデルを主張するバーナードと対立した。
5. 企業における意思決定を、定型的意思決定と非定型的意思決定の二つに大別し、新市場の開拓や新規参入などは非定型的意思決定にあたるとした。

[No. 49] 日本の行政改革に関する記述として、妥当なのはどれか。

1. 第一次臨時行政調査会は、大蔵省から内閣府への予算編成権の移管や機関委任事務の廃止などを内容とする答申を行った。
2. 第二次臨時行政調査会は、「官から民へ」をスローガンに、日本電信電話公社、日本国有鉄道、日本郵政公社のいわゆる3公社の民営化について提言した。
3. 臨時行政改革推進審議会（第一次行革審）は、竹下内閣の時に設置され、土光敏夫日本経済団体連合会名誉会長を会長に迎え、そのリーダーシップの下、1省庁1局削減を実施し、スクラップ・アンド・ビルドを確立した。
4. 行政改革会議は、橋本首相が自ら会長を務め、内閣・官邸機能の強化や中央省庁の再編等を内容とする最終報告を行い、これを受け中央省庁等改革基本法が成立し、その後、内閣機能の強化、中央省庁の1府12省庁への再編等が実現した。
5. いわゆる小泉構造改革では、「増税なき財政再建」を基本方針と定め、「小さな政府」を目標に、日本道路公団の民営化や独立行政法人制度の創設を行うとともに、首相のさらなるリーダーシップの強化に向け、内閣人事局を設置した。

[No. 50] D. ベルの脱工業化社会論に関する記述として、妥当なのはどれか。

1. 財貨生産経済からサービス経済への移行、専門職・技術職階層の台頭及びイデオロギーの対立を生み出す階級間の対立の終焉などを指摘した。
2. 脱工業化をリードする技術革新こそが先進工業社会における唯一の基軸原理であるとし、新製品の研究開発の場としての企業が社会の基軸構造になるとした。
3. 社会構造、政治形態、文化それぞれの部門において共通する同一の基軸原理が働いており、各部門の間に対立・矛盾は発生しないとした。
4. 脱工業化を達成した先進産業社会では、科学や技術などの物質文化が、宗教や芸術などの非物質文化より変化の速度が速くなることを指摘した。
5. 新しい知的技術を創造することとその担い手による政策決定が重要になり、政治家は社会の管理者としての役割を失うとした。